





# Aire de mouvement, aire de trafic et aire de manoeuvre

A partir du grade  et programme examen du grade  et supérieurs  
A partir du grade  et programme examen du grade  et supérieurs

## 1. Définition

### 1.1 Aire de manoeuvre

Partie d'un aérodrome à utiliser pour les décollages, les atterrissages et la circulation des aéronefs à la surface, à l'exclusion des aires de trafic.

- Les pistes (aire d'atterrissage)
- Les voies de circulation (taxiway)

### 1.2 Aire de trafic

Aire définie, destinée aux aéronefs pendant l'embarquement ou le débarquement des voyageurs, le chargement ou le déchargement de la poste ou du fret, l'avitaillement ou la reprise de carburant, le stationnement ou l'entretien.

- Partie de l'aérodrome destinée à recevoir les aéronefs pendant les opérations d'escale et d'assistance, comprenant :
- Les aires de stationnement, d'entretien et les aires de garage
  - Les voies de circulation de l'aire de trafic (taxilanes)

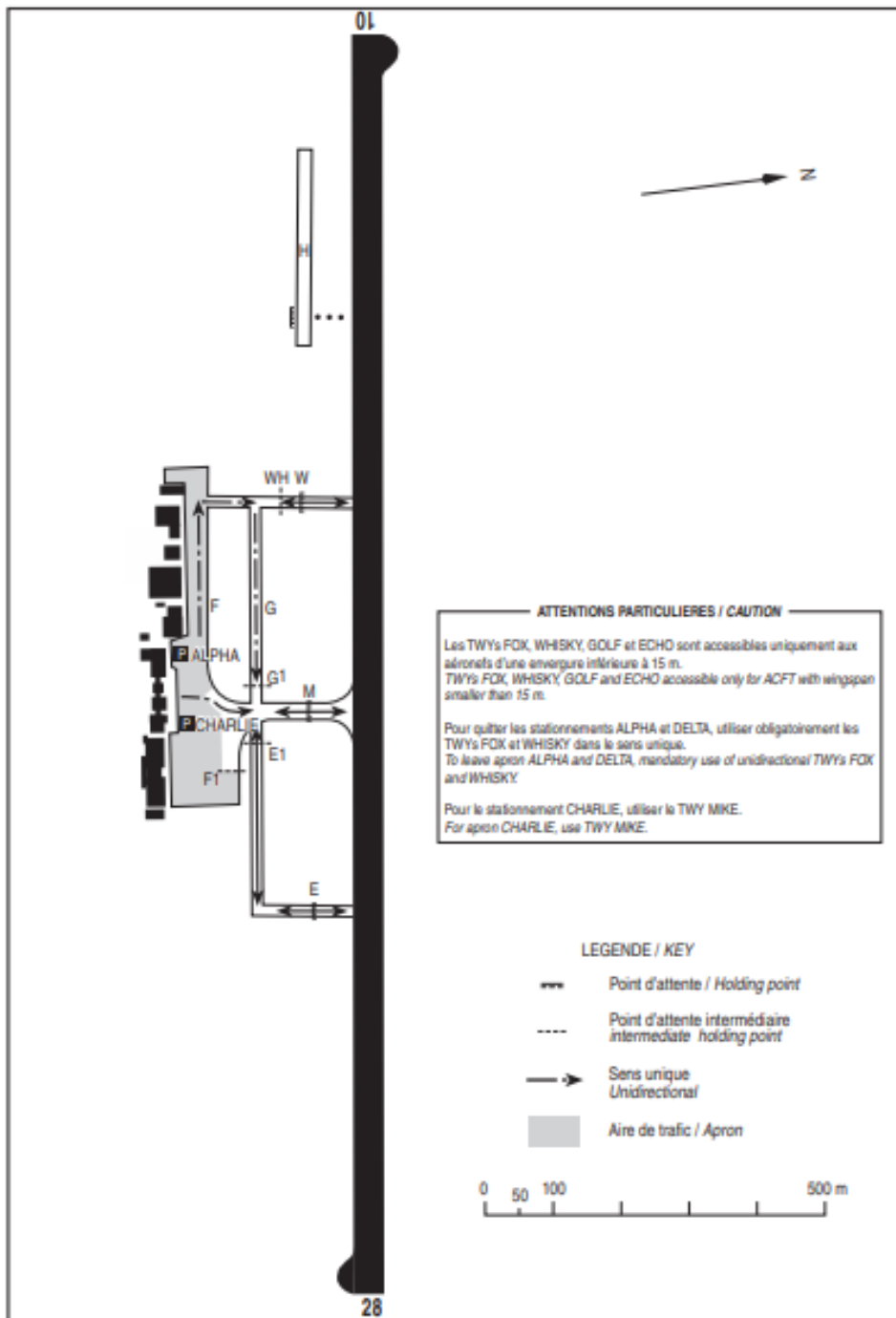
### 1.3 Aire de mouvement

Partie d'un aérodrome à utiliser pour les décollages, les atterrissages et la circulation des aéronefs à la surface, et qui comprend l'aire de manoeuvre et les aires de trafic.

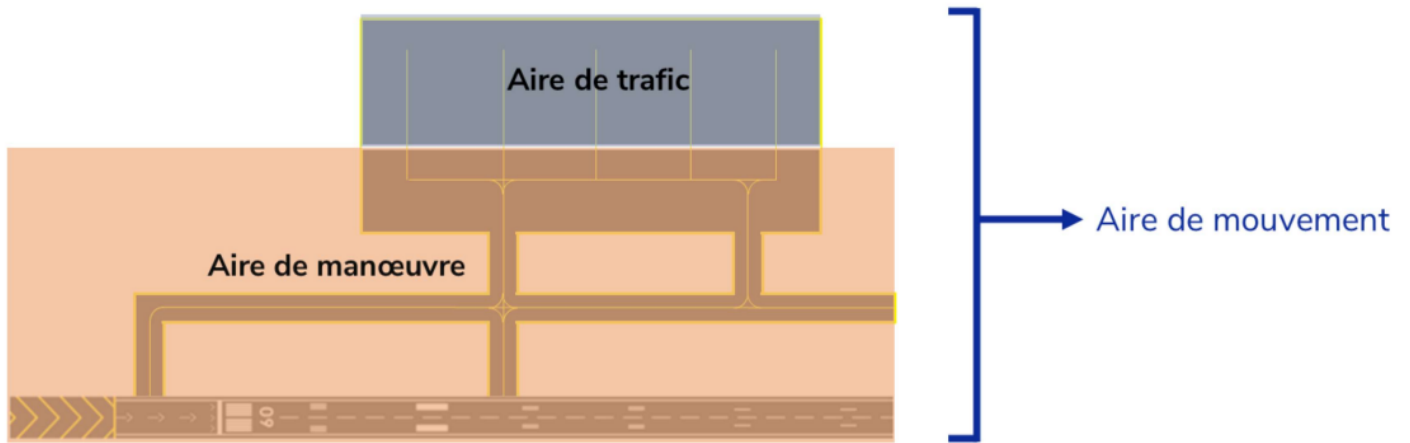
L'aire de mouvement est formée par l'ensemble aire de manoeuvre et aire de trafic.

## 2. Sur les cartes

La différence entre l'aire de trafic et l'aire de manœuvre est matérialisée par un changement de couleur. En gris est indiquée l'aire de trafic, en blanc l'aire de manœuvre.



## 3. Résumé



Revision #9

Created 9 March 2025 23:44:00 by Liam Iveton

Updated 28 April 2025 23:07:36 by Liam Iveton